

Exercícios sobre os Estados Unidos

1. A charge abaixo brinca com o olhar geopolítico dos Estados Unidos sobre o mundo, na qual fica evidente o caráter pejorativo.



O termo “bêbados derrotados” para se referir à Rússia

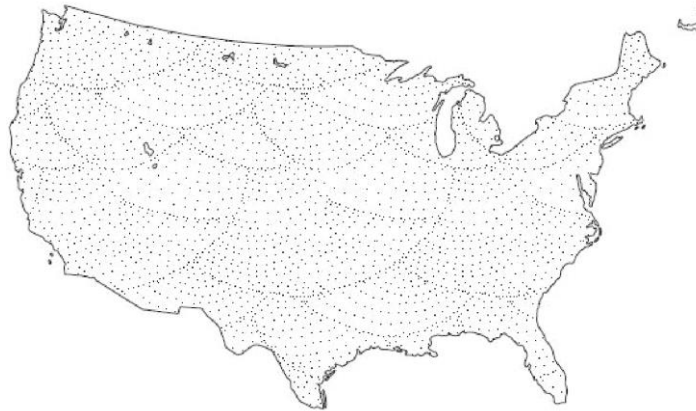
- Relaciona-se à reação xenófoba da população dos Estados Unidos às migrações em massa de trabalhadores russos para os EUA após o fim do socialismo, taxando-os como bebedores e sem qualificação profissional.
- Refere-se ao fim da guerra fria quando a URSS, derrotada frente à superioridade militar dos Estados Unidos, é obrigada por este país a se desfazer de todo seu arsenal nuclear.
- Faz referência ao excessivo consumo de vodka por parte da cúpula do partido comunista soviético, principal causa do fim do socialismo e da própria desintegração da antiga URSS.
- Faz referência à supremacia do Capitalismo estabelecida com a crise do socialismo, sistema sócio econômico dominante neste país durante a maior parte do século XX .

2. “Pouco antes do término da Guerra de Secessão, o governo anunciou, em 1862, a lei (...) que concedia a posse de 160 acres de terra a quem cultivasse por, no mínimo cinco anos. Essa lei atraiu imensas ondas de imigrantes europeus para os Estados Unidos, favorecendo a ocupação e a exploração econômica de terras, habitadas por povos indígenas”.

O texto retrata um período de forte expansão territorial dos EUA, e a forma como o país usou de artifício legais para incentivar a o crescimento espacial é importante fruto da ciência geográfica e no caso foi representado pelo(a):

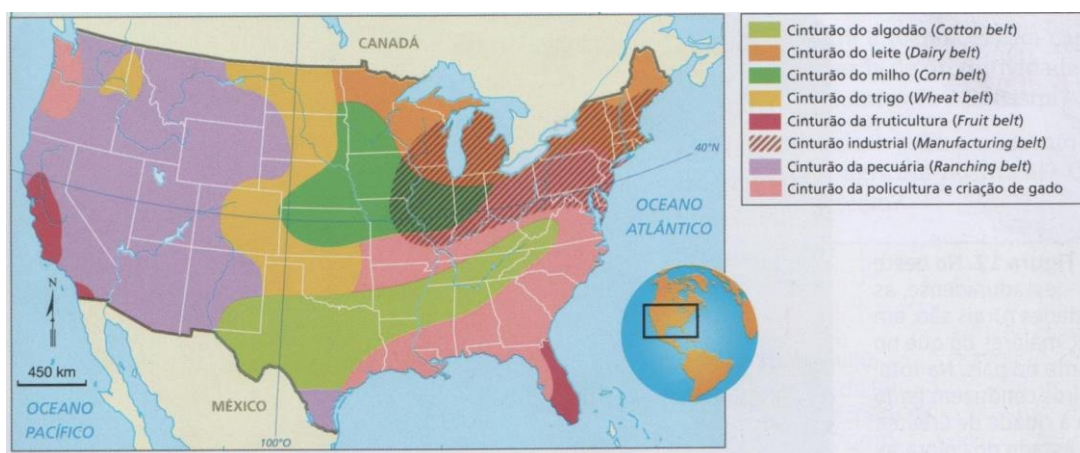
- Doutrina Monroe
- Declaração de Yorktown
- Big Stick
- Homestead Act
- declaração de independência

3) A hegemonia adquirida pela potência abaixo pode ser explicada, em grande parte:



- Pela tradicional atividade agrícola que sempre acompanhou a história do país.
- Pela hegemonia industrial adquirida logo após a primeira Revolução Industrial, quando o país rompeu definitivamente com as atividades agrícolas, concentrando-se exclusivamente na área industrial e tecnológica.
- Pela liderança tecnológica alcançada logo no início do século XX, quando se formou extenso cinturão técnico-científico na costa nordeste do país.
- Por ser um dos cinco países membros do Conselho de Segurança da ONU com poder de veto, condição alcançada logo após a Primeira Guerra Mundial.
- Por um histórico de doutrinas geopolíticas, como a Doutrina Monroe, o Destino Manifesto e o Corolário Roosevelt.

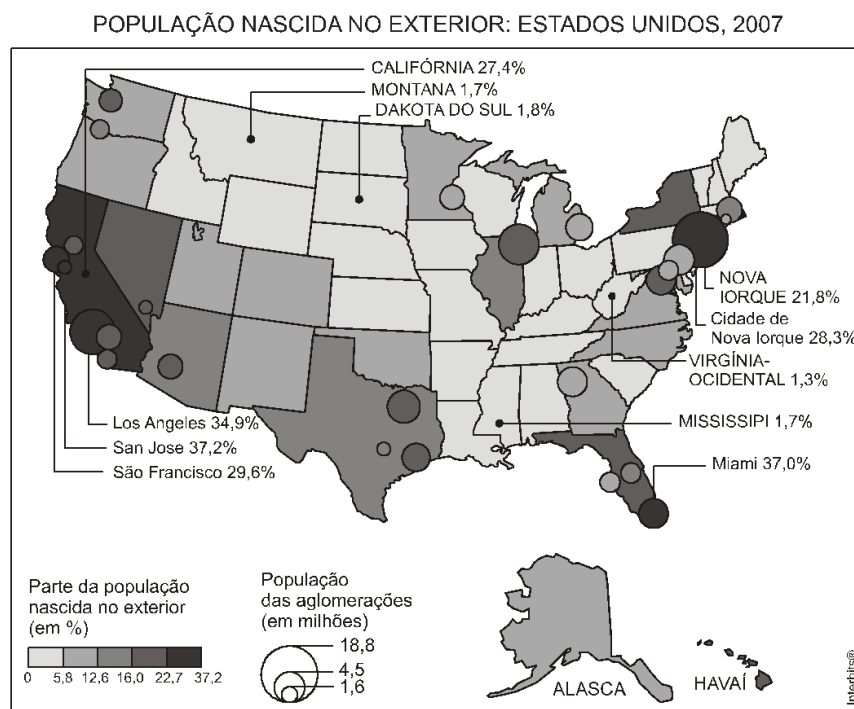
4. Analise o mapa abaixo e identifique a alternativa que melhor descreve o que ele mostra.



- Belts agrícolas, que são cinturões agropecuários predominantemente monocultores especializados na produção de gêneros que aproveitem melhor cada espaço do território nacional.
- Distribuição agropecuária dos EUA, definida diretamente a partir de políticas governamentais e interesses públicos.

- c) Distribuição da indústria nos EUA, determinada pela concentração de insumos industriais e infraestrutura para distribuição para o mercado externo.
- d) Belts industriais, que se distribuem pelo espaço de acordo com os fatores locais, tais como o Cotton Belt, Manufacturing Belt e Sun Belt.
- e) Os belts agrícolas apresentam uma produção de forma extensiva, utilizando grandes espaços e com destaque para a agricultura orgânica.

5. Veja o mapa:



Considerando o que está representado, pode-se dizer que

- a) Em razão da vizinhança na fronteira Norte dos EUA, os estados da região têm um maior número de estrangeiros na sua composição populacional.
- b) Em todo estado onde a população estrangeira é expressiva, os estrangeiros vão para o campo, como, por exemplo, no caso da Flórida.
- c) Embora haja forte presença de estrangeiros em algumas cidades, nas principais cidades americanas, essa presença não é importante.
- d) O Meio-Oeste e o Norte, por serem mais rurais, têm mais estrangeiros no conjunto da população, por que esses são mão de obra desqualificada.
- e) Na costa Oeste dos EUA, a forte presença de estrangeiros deve-se, entre outros fatores, à forte migração na sua fronteira Sul.

6. Cresce a proporção de latinos nos EUA

Já se sabe que a população latina está mudando a face dos Estados Unidos, e os números confirmam: a cada 30 segundos nasce no país uma pessoa dessa origem. Os latinos são 14,2%

da população, 40,5 milhões de pessoas. De acordo com os dados do censo americano, os latinos representam o segmento mais jovem.

PILAR MARRERO. Adaptado de <http://politicainternacional-jorge.blogspot.com>

O texto faz referência ao aumento da proporção de hispânicos na população estadunidense. Além da imigração elevada, esse aumento é consequência direta do seguinte aspecto demográfico característico desse grupo:

- a) Estrutura etária associada a altas taxas de natalidade
- b) Taxa de emigração marcada por percentual elevado de idosos
- c) População economicamente ativa concentrada nas áreas rurais
- d) Altas taxas de mortalidade masculina gerada por condições precárias de trabalho
- e) Busca por qualquer tipo de emprego associada a básica sobrevivência americana

7. O México e os Estados Unidos são vizinhos com problemas. Sobre esta relação de vizinhança é correto afirmar, exceto:

- a) O México foi uma das primeiras vítimas do nascente imperialismo norte-americano do século XIX. Explorando as instabilidades internas do México, os Estados Unidos conquistaram 1 milhão de km² de territórios originalmente mexicanos. Esses territórios correspondem aos atuais estados do Texas, Arizona, Novo México e Califórnia.
- b) Os problemas existentes entre México e Estados Unidos foram resolvidos recentemente com a eleição de Barack Obama, que flexibilizou, por meio de leis, a entrada dos mexicanos nos Estados Unidos.
- c) A maioria dos norte-americanos tende a menosprezar, ser indiferente ou simplesmente ignorar os ressentimentos históricos mexicanos. A imagem passada pelo cinema norte americano a respeito dos mexicanos é geralmente depreciativa.
- d) O México pode se tornar um problema geopolítico para os Estados Unidos, se as falhas políticas e econômicas do regime mexicano acirrare os sentimentos antinorte-americanos.
- e) Os mexicanos buscam postos de trabalho nos Estados Unidos, o que aumenta muito o fluxo migratório legal e ilegal para o país americano.

Gabarito

1. D
2. D
3. E
4. A
5. E
6. A
7. B