

Exercícios sobre BRICS

1. (ENEM) “O G-20 é o grupo que reúne os países do G-7, os mais industrializados do mundo (EUA, Japão, Alemanha, França, Reino Unido, Itália e Canadá), a União Europeia e os principais emergentes (Brasil, Rússia, Índia, China, África do Sul, Arábia Saudita, Argentina, Austrália, Coreia do Sul, Indonésia, México e Turquia). Esse grupo de países vem ganhando força nos fóruns internacionais de decisão e consulta.”

ALLAN, R. *Crise global*. Disponível em: <http://conteudoclipingmp.planejamento.gov.br>. Acesso em: 31 jul. 2010.

Entre os países emergentes que formam o G-20, estão os chamados BRIC (Brasil, Rússia, Índia e China), termo criado em 2001 para referir-se aos países que:

- Apresentam características econômicas promissoras para as próximas décadas.
- Possuem base tecnológica mais elevada.
- Apresentam índices de igualdade social e econômica mais acentuados.
- Apresentam diversidade ambiental suficiente para impulsionar a economia global.
- Possuem similaridades culturais capazes de alavancar a economia mundial.

2.






Os líderes dos países que integram os Brics – Brasil, Rússia, Índia, China e África do Sul – encerraram seu terceiro encontro com um comunicado em que pedem conjunta e explicitamente, pela primeira vez, mudanças no Conselho de Segurança das Nações Unidas. O texto defende reformas na ONU para aumentar a representatividade na instituição, além de alterações no Fundo Monetário Internacional e no Banco Mundial. Para os líderes dos Brics, a reforma da ONU é essencial, pois não é mais possível manter as formas institucionais erguidas logo após a Segunda Guerra Mundial.

Adaptado de *O Globo*, 15/04/2011

Uma das principais mudanças no contexto internacional contemporâneo que se relaciona com as reformas propostas pelos Brics está indicada em:

- Afirmação da multipolaridade
- Proliferação de armas atômicas
- Hegemonia econômica dos E.U.A.
- Diversificação dos fluxos de capitais

3. (ESPM-SP 2010) A expressão BRIC surgiu para designar um grupo de países emergentes que vêm ganhando relativo destaque no cenário internacional. A alternativa em que a informação se correlaciona corretamente com o mapa no contexto de 2009 é:

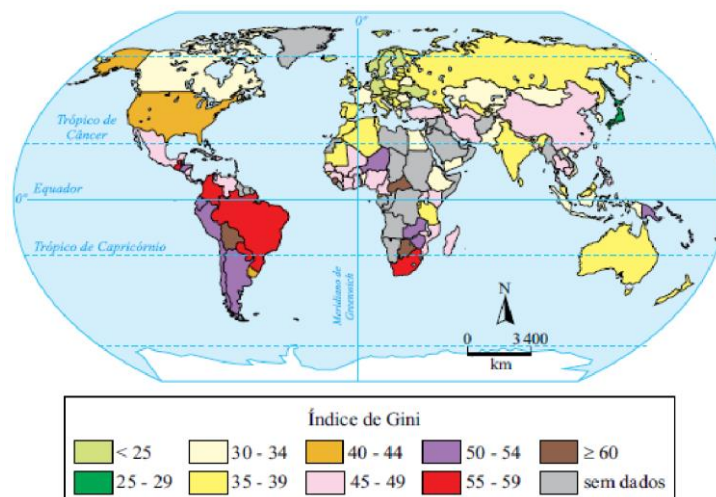
- a) 
- b) 
- c) 
- d) 
- e) 

4. Analise a tabela e o mapa:

Ranking dos maiores PIBs do mundo em 2010

posição	país	PIB (em bilhões)
1.º	Estados Unidos	14.624,2
2.º	China	5.745,1
3.º	Japão	5.390,9
4.º	Alemanha	3.305,9
5.º	França	2.555,4
6.º	Reino Unido	2.258,6
7.º	Brasil	2.088,9
8.º	Itália	2.036,7
9.º	Canadá	1.563,7
10.º	Rússia	1.476,9

(http://colunistas.ig.com.br)

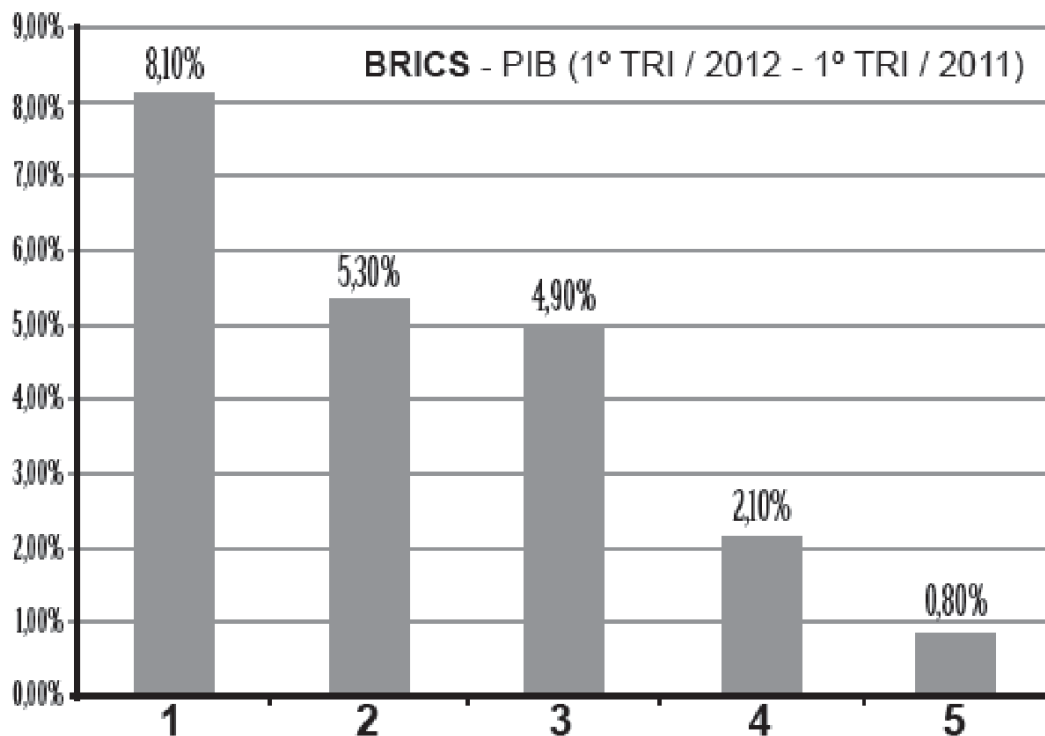
*Concentração de renda no mundo em 2008 (Índice de Gini)**

*Quanto mais próximo a zero for o Índice de Gini, menor e a concentração de renda no país.
(James Tamdjian e Ivan Mendes. *Geografia: estudos para compreensão do espaço*, 2011.
Adaptado.)

A partir da análise da tabela e do mapa, é correto afirmar que:

- China e Brasil são os países que apresentam os maiores índices de concentração de renda entre os dez países com maiores PIBs do mundo.
- A concentração de renda é um problema que atinge, na mesma proporção, os dez países com maiores PIBs do mundo.
- A Rússia, apesar de possuir o menor PIB entre os dez países, é o que apresenta o menor índice de concentração de renda.
- Os dez países com os maiores PIBs do mundo são, também, aqueles que possuem os menores índices de concentração de renda no mundo.
- Os EUA possuem o maior PIB e o menor índice de concentração de renda do mundo.

5. Para responder à questão, analise o gráfico abaixo e o texto que o segue, considerando o que dizem especialistas do mundo dos negócios em relação ao grupo de países cujo desenvolvimento econômico é representado no gráfico:



(Fonte: www.1.folha.uol.com.br/mercado/paradavos. Acessado em 13/04/2013)

A economia desse grupo de países tem crescido nos últimos anos, integrando-se no esquema de produção e comercialização mundiais. Essas nações reúnem mais de um terço da população mundial e, apesar de enfrentarem problemas sociais, possuem uma taxa de crescimento econômico que as coloca como potências emergentes, capazes de redefinir o poder econômico do mundo.

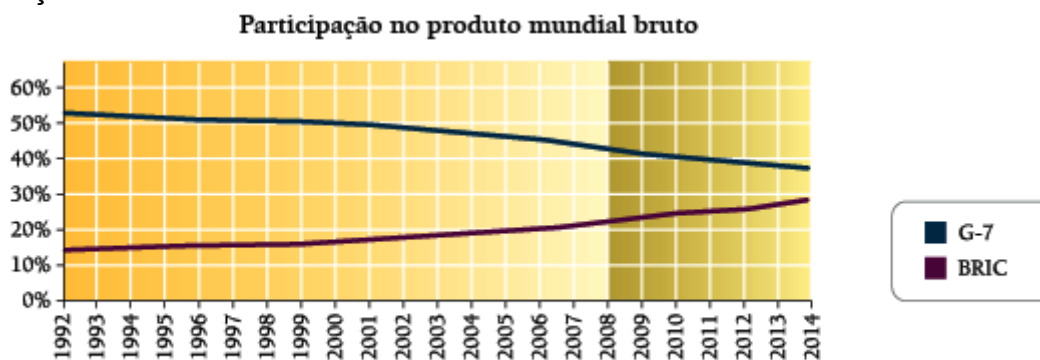
Com base nas informações acima, é correto concluir que os países:

- I. 1, 2, 3, 4 e 5, classificados como emergentes, formaram, em 1980, a União Econômica denominada BRICS.
- II. 2 e 3 assemelham-se quanto ao crescimento econômico, diferenciando-se dos países 1 e 5.
- III. 4 e 5 apresentam um crescimento econômico menos expressivo, mas, ainda assim, com significância no contexto mundial.
- IV. 1, 2, 3, 4 e 5 são, respectivamente, China, Índia, Rússia, África do Sul e Brasil.

Estão corretas apenas as afirmativas :

- a) I e II.
- b) I e III.
- c) II e III.
- d) I, II e IV.
- e) II, III e IV.

6. Em 2008, pela primeira vez desde 1880, os países ricos passaram a representar menos de 50% da produção mundial.



www.gartanaescola.com.br

Apresente dois fatores que explicam o elevado desempenho econômico dos BRIC, grupo formado por Brasil, Rússia, Índia e China, nos últimos dez anos.

7. Apresente também duas consequências, uma geopolítica e outra ambiental, dessa nova realidade econômica mundial.

Gabarito

1. A
2. A
3. A
4. A
5. E
6. Países constituintes do grupo dos BRIC - diferenciam-se dos demais países emergentes por apresentarem determinadas características em comum, tais como grande impulso de industrialização, mercado consumidor muito expressivo e com grande potencial de crescimento, baixo custo de produção de mercadorias e capacidade de atração de grandes volumes de investimentos internacionais.
7. O acelerado crescimento econômico dessas nações resulta em diversas consequências em, pelo menos, dois campos importantes: a geopolítica e o meio ambiente. Em termos de geopolítica, estão previstos o fortalecimento das relações Sul-Sul, a consolidação de uma ordem mundial multipolar e a formação de novas alianças geopolíticas com as potências emergentes; já no aspecto ambiental, é possível antever o agravamento da poluição e o aumento da emissão de gases de efeito estufa.