

## Exercícios de Crescimento da População Mundial

### 1. Tendências globais em fecundidade

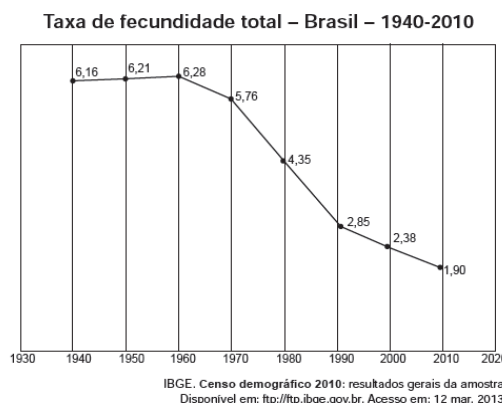
A população mundial ultrapassou os 7 bilhões e está projetada para alcançar 9 bilhões até 2050. Em termos gerais, o crescimento populacional é maior nos países mais pobres, onde as preferências de fecundidade são mais altas, onde os governos carecem de recursos para atender à crescente demanda por serviços e infraestrutura, onde o crescimento dos empregos não está acompanhando o número de pessoas que entram para a força de trabalho e onde muitos grupos populacionais enfrentam grandes dificuldades no acesso à informação e aos serviços de planejamento familiar.

Fonte: *Population Reference Bureau, 2011.*

Com base no texto, é CORRETO afirmar que:

- As taxas de nascimento da população mundial têm declinado vagarosamente, contudo há grandes disparidades entre as regiões mais e menos desenvolvidas, como na África Subsaariana, onde as mulheres têm três vezes mais filhos, em média, que as das regiões mais desenvolvidas do mundo.
- A pobreza, a desigualdade de gênero e as pressões sociais revelam acesso desigual aos meios de prevenção à gravidez, mas não são consideradas nos índices demográficos como indicadores da persistente alta da taxa de fecundidade no mundo em desenvolvimento.
- O aumento do uso de contraceptivos é consideravelmente responsável pelo aumento das taxas de fecundidade nos países desenvolvidos. Globalmente, cerca de quatro mulheres escolarizadas, sexualmente ativas e na idade reprodutiva não adotam o planejamento familiar.
- A taxa de fecundidade total é uma medida mais direta do nível de longevidade que a taxa bruta de natalidade, uma vez que se refere ao envelhecimento da população feminina. Esse indicador mostra o potencial das mudanças de gênero nos países.
- Uma média de cinco filhos por mulher é considerada a taxa de substituição de uma população, provocando uma relativa instabilidade em termos de números absolutos. Taxas acima de cinco filhos indicam população crescendo em tamanho cuja idade média está em ascensão.

### 2.



O processo registrado no gráfico gerou a seguinte consequência demográfica:

- Decréscimo da população absoluta.
- Redução do crescimento vegetativo.
- Diminuição da proporção de adultos.
- Expansão de políticas de controle da natalidade.
- Aumento da renovação da população economicamente ativa.

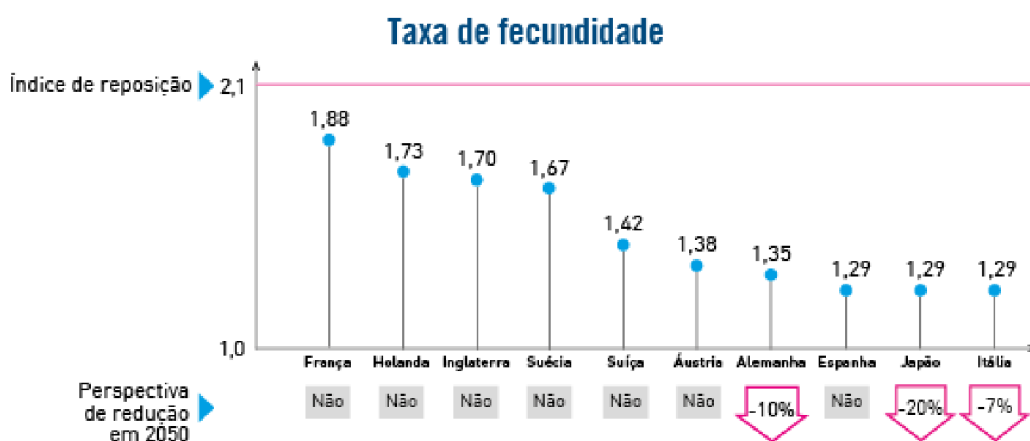
3. Em material para análise de determinado marketing político, lê-se a seguinte conclusão:

A explosão demográfica que ocorreu a partir dos anos 50, especialmente no Terceiro Mundo, suscitou teorias ou políticas demográficas divergentes. Uma primeira teoria, dos neomalthusianos, defende que o crescimento demográfico dificulta o desenvolvimento econômico, já que provoca uma diminuição na renda nacional per capita e desvia os investimentos do Estado para setores menos produtivos. Diante disso, o país deveria desenvolver uma rígida política de controle de natalidade. Uma segunda, a teoria reformista, argumenta que o problema não está na renda per capita e sim na distribuição irregular da renda, que não permite o acesso à educação e saúde.

Diante disso o país deve promover a igualdade econômica e a justiça social. Qual dos slogans abaixo poderia ser utilizado para defender o ponto de vista neomalthusiano?

- “Controle populacional – nosso passaporte para o desenvolvimento.”
- “Sem reformas sociais o país se reproduz e não produz.”
- “População abundante, país forte!”
- “O crescimento gera fraternidade e riqueza para todos.”
- “Justiça social, sinônimo de desenvolvimento.”

4. (UERJ-2013) – TEMA: TAXA DE CRESCIMENTO POPULACIONAL MUNDIAL



A despeito das taxas de fecundidade apresentadas, a estabilidade demográfica, projetada para vários países desenvolvidos em 2050, baseia-se em fenômenos atuais, com destaque para:

- Redução da natalidade, estabelecida pela maior expectativa de vida.
- Expansão da mortalidade, provocada pelo envelhecimento dos grupos etários.
- Deslocamento populacional, condicionado pelas disparidades socioeconômicas.
- Demanda por mão de obra qualificada, favorecida por políticas governamentais.

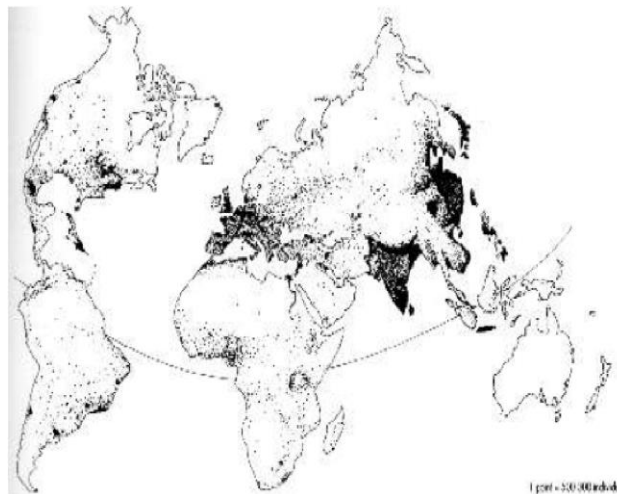
5. Antes do século 20, nenhum ser humano tinha vivido o suficiente para testemunhar uma duplicação da população mundial, mas hoje há pessoas que a viram triplicar. Em algum momento no fim de 2011, segundo a Divisão de População das Nações Unidas, seremos 7 bilhões de pessoas.

(<http://viajeaqui.abril.com.br/national-geographic/edicao-130/populacao-mundial-7-bilhoes-613876.shtml> Acesso em: 07.09.2011)

Assinale a alternativa que completa o texto anterior.

- a) O crescimento da população deverá se refletir no processo de urbanização que poderá atingir 3/4 da população mundial em 2015.
- b) As maiores contribuições para o crescimento demográfico vêm dos países que estão na fase inicial da transição demográfica.
- c) Os principais responsáveis pelo crescimento populacional são os países que conseguiram reduzir as taxas de analfabetismo.
- d) O crescimento demográfico anunciado permitirá uma distribuição mais homogênea da população pelo espaço terrestre.
- e) O aumento da população esperado desmistifica a crença de que os países desenvolvidos apresentam baixas taxas de fertilidade.

6. (PUC-SP) Observe o mapa com atenção:



O mapa nos diz que

- a) Grandes áreas de baixa população na África e no norte da América do Norte têm potencial para serem as áreas para desafogar as regiões litorâneas.
- b) Em termos absolutos pode-se afirmar que a maioria da população mundial se concentra em países fora do mundo chamado desenvolvido.
- c) Em razão da condição de pobreza e falta de políticas de controle de natalidade, o hemisfério sul do planeta concentra os maiores contingentes populacionais.
- d) A distribuição geográfica da população mundial indica que praticamente não há mais áreas que não possam ser habitadas pelo ser humano.
- e) Os chamados países desenvolvidos apresentam uma menor parte da população mundial, o que também pode ser expresso pelas baixas densidades demográficas.

## Gabarito

1. A
2. B
3. A
4. C
5. B
6. B