

Exercícios de Matemática para o ENEM (Habilidades 5 e 8)

H5 – Avaliar propostas de intervenção na realidade utilizando conhecimentos numéricos

1. João deve 12 parcelas de R\$ 150,00 referentes ao cheque especial de seu banco e cinco parcelas de R\$ 80,00 referentes ao cartão de crédito. O gerente do banco lhe ofereceu duas parcelas de desconto no cheque especial, caso João quitasse esta dívida imediatamente ou, na mesma condição, isto é, quitação imediata, com 25% de desconto na dívida do cartão. João também poderia renegociar suas dívidas em 18 parcelas mensais de R\$ 125,00. Sabendo desses termos, José, amigo de João, ofereceu-lhe emprestar o dinheiro que julgasse necessário pelo tempo de 18 meses, com juros de 25% sobre o total emprestado.

A opção que dá a João o menor gasto seria

- a) renegociar suas dívidas com o banco.
- b) pegar emprestado de José o dinheiro referente à quitação das duas dívidas.
- c) recusar o empréstimo de José e pagar todas as parcelas pendentes nos devidos prazos.
- d) pegar emprestado de José o dinheiro referente à quitação do cheque especial e pagar as parcelas do cartão de crédito.
- e) pegar emprestado de José o dinheiro referente à quitação do cartão de crédito e pagar as parcelas do cheque especial. .

2. Um grupo de pacientes com Hepatite C foi submetido a um tratamento tradicional em que 40% desses pacientes foram completamente curados. Os pacientes que não obtiveram cura foram distribuídos em dois grupos de mesma quantidade e submetidos a dois tratamentos inovadores. No primeiro tratamento inovador, 35% dos pacientes foram curados e, no segundo, 45%. Em relação aos pacientes submetidos inicialmente, os tratamentos inovadores proporcionaram cura de:

- a) 16%.
- b) 24%.
- c) 32%.
- d) 48%.
- e) 64%.

3. Em 2006, a produção mundial de etanol foi de 40 bilhões de litros e a de biodiesel, de 6,5 bilhões. Neste mesmo ano, a produção brasileira de etanol correspondeu a 43% da produção mundial, ao passo que a produção dos Estados Unidos da América, usando milho, foi de 45%.

Disponível em: planetasustentavel.abril.com.br. Acesso em: 02 maio 2009.

Considerando que, em 2009, a produção mundial de etanol seja a mesma de 2006 e que os Estados Unidos produzirão somente a metade de sua produção de 2006, para que o total produzido pelo Brasil e pelos Estados Unidos continue correspondendo a 88% da produção mundial, o Brasil deve aumentar sua produção em, aproximadamente,

- a) 22,5%.
- b) 50,0%.
- c) 52,3%
- d) 65,5%
- e) 77,5%.

4. O dono de uma oficina mecânica precisa de um pistão das partes de um motor, de 68 mm de diâmetro, para o conserto de um carro. Para conseguir um, esse dono vai até um ferro velho e lá encontra pistões com diâmetros iguais a 68,21 mm; 68,102 mm; 68,001 mm; 68,02 mm e 68,012 mm.

Para colocar o pistão no motor que está sendo consertado, o dono da oficina terá de adquirir aquele que tenha o diâmetro mais próximo do que precisa.

Nessa condição, o dono da oficina deverá comprar o pistão de diâmetro


- a) 68,21 mm.
- b) 68,102 mm.
- c) 68,02 mm.
- d) 68,012 mm.
- e) 68,001 mm.

5. Um maquinista de trem ganha R\$ 100,00 por viagem e só pode viajar a cada 4 dias. Ele ganha somente se fizer a viagem e sabe que estará de férias de 1.º a 10 de junho, quando não poderá viajar. Sua primeira viagem ocorreu no dia primeiro de janeiro. Considere que o ano tem 365 dias. Se o maquinista quiser ganhar o máximo possível, quantas viagens precisará fazer?

- a) 37
- b) 51
- c) 88
- d) 89
- e) 91

H8 – Resolver situação-problema que envolva conhecimentos geométricos de espaço e forma

6. Ao morrer, o pai de João, Pedro e José deixou como herança um terreno retangular de 3km x 2km que contém uma área de extração de ouro delimitada por um quarto de círculo de raio 1km a partir do canto inferior esquerdo da propriedade. Dado o maior valor da área de extração de ouro, os irmãos acordaram em repartir a propriedade de modo que cada um ficasse com a terça parte da área de extração, conforme mostra a figura.



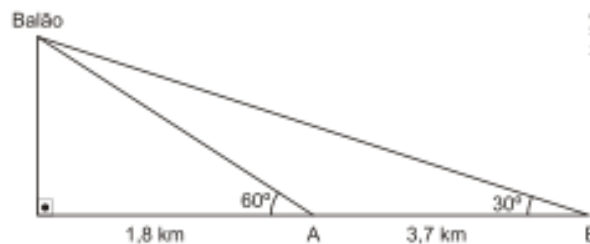
Em relação à partilha proposta, constata-se que a porcentagem da área do terreno que coube a João corresponde, aproximadamente, a

(considere $\frac{\sqrt{3}}{3} = 0,58$)

- a) 50%.
- b) 43%.
- c) 37%.
- d) 33%.
- e) 19%

7. Um balão atmosférico, lançado em Bauru (343 quilômetros a Noroeste de São Paulo), na noite do último domingo, caiu nesta segunda-feira em Cuiabá Paulista, na região de Presidente Prudente, assustando agricultores da região. O artefato faz parte do programa Projeto Hibiscus, desenvolvido por Brasil, França, Argentina, Inglaterra e Itália, para a medição do comportamento da camada de ozônio, e sua descida se deu após o cumprimento do tempo previsto de medição.

Disponível em: <http://www.correiodobrasil.com.br>. Acesso em: 02 maio 2010.



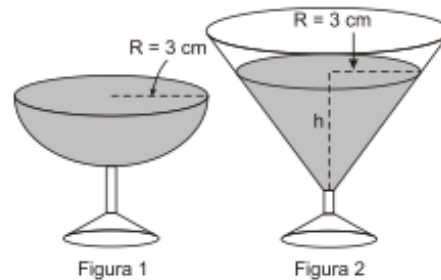
Na data do acontecido, duas pessoas avistaram o balão. Uma estava a 1,8 km da posição vertical do balão e o avistou sob um ângulo de 60°; a outra estava a 5,5 km da posição vertical do balão, alinhada com a primeira, e no mesmo sentido, conforme se vê na figura, e o avistou sob um ângulo de 30°.

Qual a altura aproximada em que se encontrava o balão?

- a) 1,8 km
- b) 1,9 km
- c) 3,1 km
- d) 3,7 km
- e) 5,5 km

8. Em um casamento, os donos da festa serviam champanhe aos seus convidados em taças com formato de um hemisfério (Figura 1), porém um acidente na cozinha culminou na quebra de grande parte desses recipientes.

Para substituir as taças quebradas, utilizou-se um outro tipo com formato de cone (Figura 2). No entanto, os noivos solicitaram que o volume de champanhe nos dois tipos de taças fosse igual.



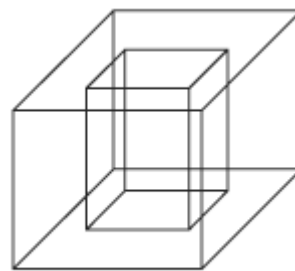
Considere:

$$V_{\text{esfera}} = \frac{4}{3}\pi R^3 \text{ e } V_{\text{cone}} = \frac{1}{3}\pi R^2 h$$

Sabendo que a taça com o formato de hemisfério e servida completamente cheia, a altura do volume de champanhe que deve ser colocado na outra taça, em centímetros, é de

- a) 1,33.
- b) 6,00.
- c) 12,00.
- d) 56,52.
- e) 113,04.


9. Um porta-lápis de madeira foi construído no formato cúbico, seguindo o modelo ilustrado a seguir. O cubo de dentro é vazio. A aresta do cubo maior mede 12 cm e a do cubo menor, que é interno, mede 8 cm.



O volume de madeira utilizado na confecção desse objeto foi de

- a) 12 cm^3 .
- b) 64 cm^3 .
- c) 96 cm^3 .
- d) $1\,216 \text{ cm}^3$.
- e) $1\,728 \text{ cm}^3$.

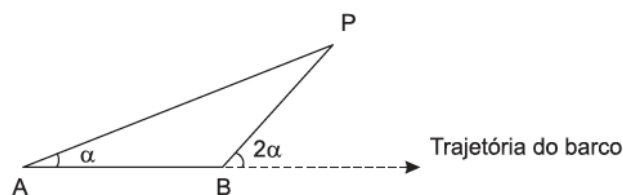
10.



O polígono que dá forma a essa calçada é invariante por rotações, em torno de seu centro, de:

- a) 45°
- b) 60°
- c) 90°
- d) 120°
- e) 180°

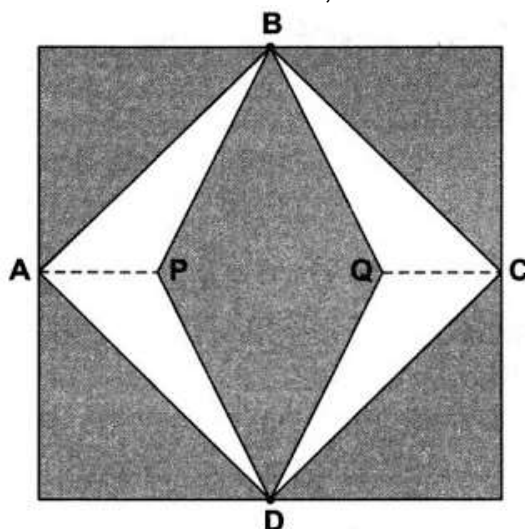
11. Para determinar a distância de um barco até a praia, um navegante utilizou o seguinte procedimento: a partir de um ponto A, mediu o ângulo visual a fazendo mira em um ponto fixo P da praia. Mantendo o barco no mesmo sentido, ele seguiu até um ponto B de modo que fosse possível ver o mesmo ponto P da praia, no entanto sob um ângulo visual 2α . A figura ilustra essa situação:



Suponha que o navegante tenha medido o ângulo $\alpha=30^\circ$ e, ao chegar ao ponto B, verificou que o barco havia percorrido a distância $AB=2000\text{m}$. Com base nesses dados e mantendo a mesma trajetória, a menor distância do barco até o ponto fixo P será

- a) 1000 m .
- b) $1000\sqrt{3}\text{ m}$.
- c) $2000\frac{\sqrt{3}}{3}\text{ m}$.
- d) 2000 m .
- e) $2000\sqrt{3}\text{ m}$.

12. Para decorar a fachada de um edifício, um arquiteto projetou a colocação de vitrais compostos de quadrados de lado medindo 1 m, conforme a figura a seguir.



Nesta figura, os pontos A, B, C e D são pontos médios dos lados do quadrado e os seguimentos AP e QC medem $\frac{1}{4}$ da medida do lado do quadrado. Para confeccionar um vitral, são usados dois tipos de materiais: um para a parte sombreada da figura, que custa R\$ 30,00 o m^2 , e outro para a parte mais clara (regiões ABPDA e BCDQB), que custa R\$ 50,00 o m^2 .

De acordo com esses dados, qual é o custo dos materiais usados na fabricação de um vitral?

- a) R\$ 22,50
- b) R\$ 35,00
- c) R\$ 40,00
- d) R\$ 42,50
- e) R\$ 45,00

Gabarito

1. E
2. B
3. C
4. E
5. C
6. E
7. C
8. B
9. D
10. D
11. B
12. B